

OLIMPIADA ȘCOLARĂ DE GEOGRAFIE
ETAPA JUDEȚEANĂ/A SECTOARELOR MUNICIPIULUI BUCUREȘTI
17 martie 2024

X. osztály

- **Minden tétel kötelező. Hivatalból 10 pont jár.**
- **A munkaidő 3 óra.**

I Tétel (20 pont)

Írjátok a vizsgalpra a helyes válasz betűjelét az alábbi kijelentésekre vonatkozóan:

1. A *Villas miserias* szegénynegyedek jellemzőek az alábbi országokban található városokra:
a. Argentína b. Fülöp-szigetek c. Mexikó d. Spanyolország
2. Cölöpökre épült házak (cölöépítmények) jellemzőek az alábbi félsziget falusi tájaira:
a. Ibériai b. Indokínai c. Yucatán d. Jylland
3. Rétoromán etnikai csoport él az alábbi országban:
a. Andorra b. Svájc c. San Marino d. Spanyolország
4. Vallási funkcióval rendelkezik az alábbi város:
a. Asztana b. Milétosz c. Taba d. Kom
5. Mianmarban etnikai konfliktus van az alábbi népcsoportok között:
a. karen és kachin b. csecsen és ingus c. tuszi és hutu d. tamil és singhal
6. Baltimore része az alábbi megalopolisznak:
a. Ausztráliai b. Boswash c. Nagy-Tavak d. Midlands
7. Független terület, egy sziget, amelyet a Holland Királyság igazgat:
a. Anguilla b. Aruba c. Mayotte d. Montserrat
8. Pénzügyi-banki funkcióval rendelkező város:
a. Davos b. Eisenhüttenstadt c. Genf d. Zürich
9. A Panama-csatorna az alábbi városok között van:
a. Balboa és Colon b. Balboa és Panama c. Colon és Darien d. Darien és Gamboa
10. Anvers város alaprajza az alábbi típushoz tartozik:
a. liniáris b. többközpontú c. rácsszerkezetű d. félkörös

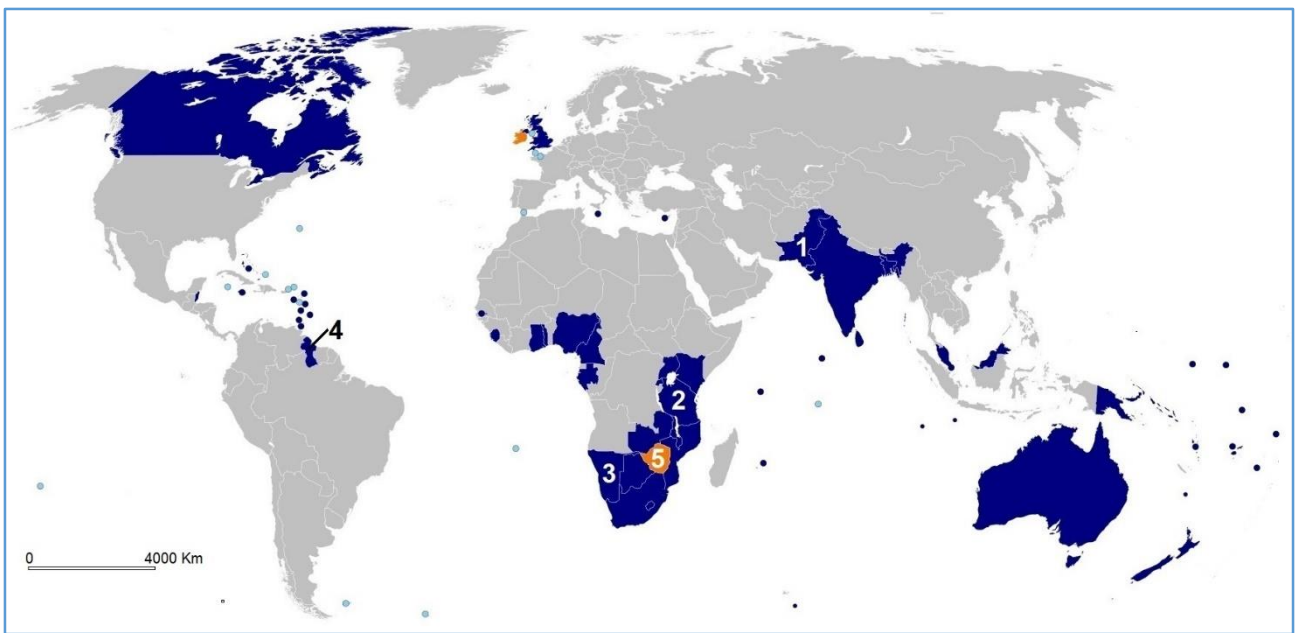
20 pont

II. Tétel (15 pont)

Elemézzétek az alábbi térképet, amely az 1931-ben létrejött államtársulásra/szövetségre vonatkozik:

Írjátok a vizsgalpra az alábbi követelményekre adott válaszokat:

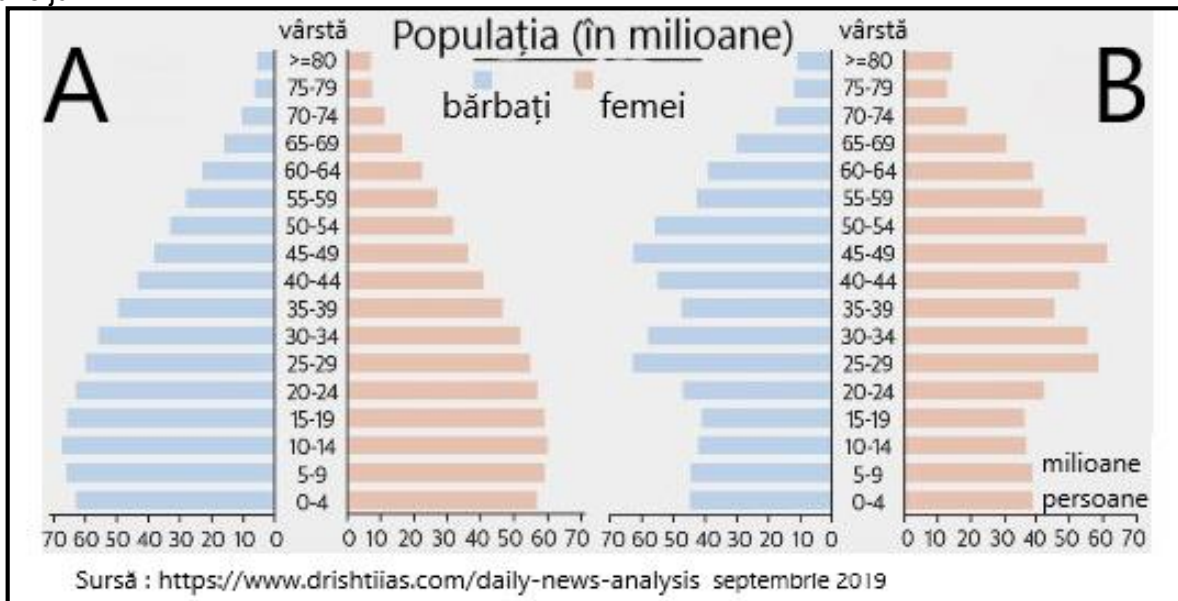
1. az államtársulás nevét, amelyre ez vonatkozik;
2. az államtársulás megalakításának célját;
3. az államtársulás/szövetség országaiban használt hivatalos nyelv megnevezését;
4. a térképen **1, 3 és 4**-es számmal jelölt országok nevét;
5. egy Mediterrán-európai ország nevét, amely tagja az államtársulásnak;
6. egy szigetország nevét, az Indiai-óceánból, amely tagja az államtársulásnak;
7. két szövetségi ország nevét az *Újvilágból*, amelyek egyben alkotmányos monarchiák is;
8. az államtársulásból felfüggesztett ország nevét, amelyet a térképen az **5**-ös szám jelöl;
9. az államtársuláshoz tartozó ázsiai országok nevét, amelyek között területi konfliktus van;
10. a vitatott régió nevét, amely miatt **a 9-es** pontban szereplő ázsiai államok konfliktusban vannak.



15 pont

III. Tétel (26 pont)

A 2019-es évre vonatkozó korfák a világ két legnépesebb országának demográfiai szerkezetét ábrázolják.



Elemézték az ábrákat és válaszoltak az alábbi kérdésekre:

1. Írjátok le az **A** és **B** betűknek megfelelő országok nevét, amelyekre a korfák vonatkoznak.
2. 2023-ban a világ két legnépesebb országának sorrendje megváltozik. Mutassatok be két érvet, amelyek előrevetítették ezt a változást, kiindulva a 2019-es korfák formájából.
3. A két ország egyikében, 1978-2015 között, bevezették az „Egy gyerek” politikát. Mutassatok be egy érvet, amely indokolta ennek a bevezetését és egy érvet, amely alátámasztja a lemondást erről a népességgpolitikáról.
4. Mutassatok be két tényezőt, amelyek magyarázatot adnak a lakosság hosszabb élettartamára a **B** országban, az **A** országhoz viszonyítva.
5. Az **A** országra vonatkozóan, írjátok le/nevezzetek meg:
 - a. három hivatalos nyelvet/dialektust;
 - b. az ország dél-keleti részén élő, függetlenségért küzdő nép megnevezését;
 - c. a jellemző/uralkodó vallást;
6. A **B** országra vonatkozóan, írjátok le/nevezzetek meg:
 - a. két okot, amelyek megmagyarázzák az ország keleti és nyugati részei közötti népsűrűség

különbségét;

b. a 160 km-re délkeletre fekvő szigetország nevét, amellyel konfliktusban áll, annak ellenére, hogy azonos eredetű/azonos népességű és egy okot, amely igazolja a két állam közötti feszültséget.

26 pont

IV. Tétel (13 pont)

Olvassátok el a következő szöveget: "Idővel a fajok között vagy az azonos fajhoz tartozó népességcsoportok között keveredés történt, ami új jellemzőkkel rendelkező keveredési populációkat eredményezett".

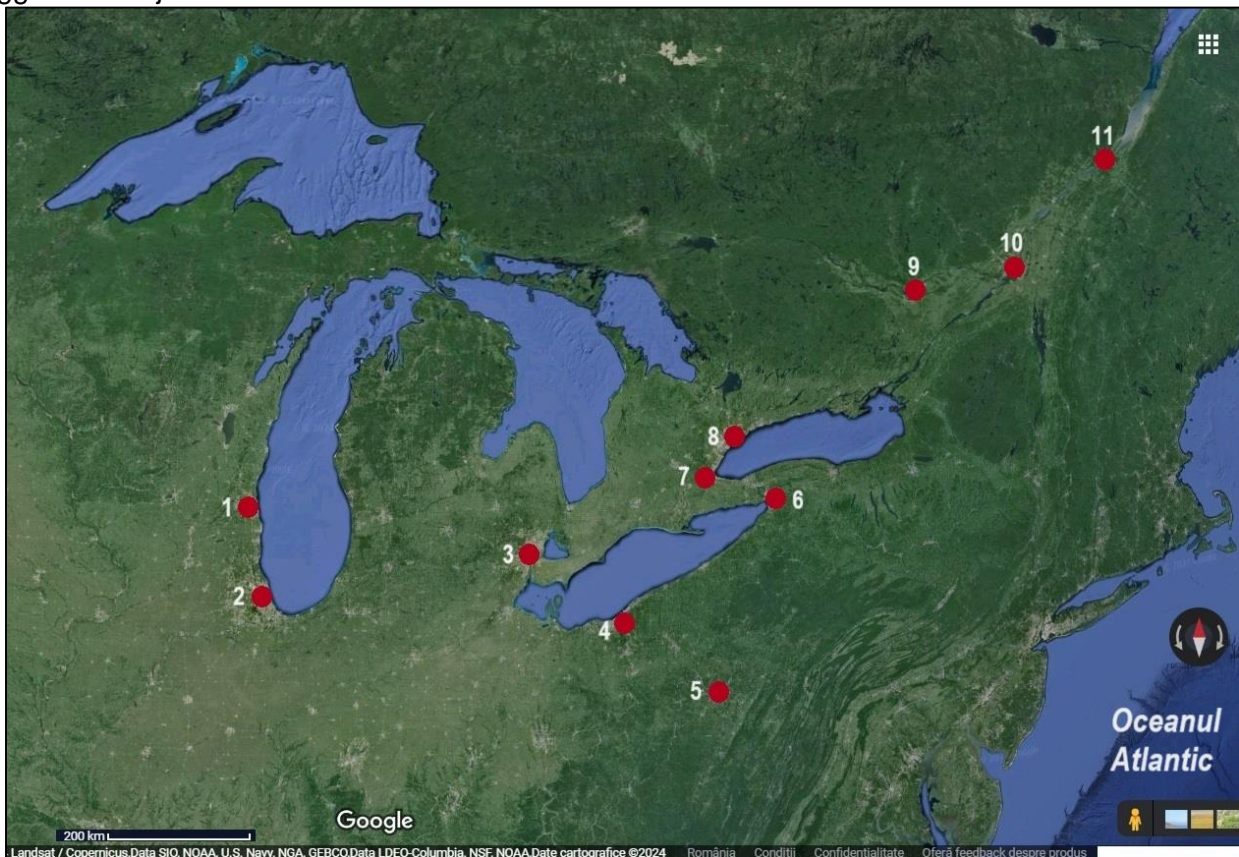
A fenti szövegből kiindulva, írjátok le/nevezzétek meg:

- ebből a keverékből származó három embertípust;
- az a. pontban említett minden egyes embertípus esetében nevezzétek meg a vegyes népességcsoportokat (fajokat);
- két tényezőt, amelyek hozzájárultak a népességcsoportok közötti keveredéshez;
- két olyan emberi csoportot a Föld felszínéről, amelyek megtartották ősi jellegüket.

13 pont

V. Tétel (16 pont)

Az alábbi ábra Észak-Amerika legfontosabb városainak egyfajta városi koncentrációját/agglomerációját szemlélteti.



A városi koncentráció/agglomeráció formáját illetően, írjátok le:

- a városi koncentráció/agglomeráció nevét;
- a városi koncentráció/agglomeráció típusát;
- két jellegzetes funkcióját;
- két tényezőt, amely meghatározta a kialakulását és fejlődését;
- az ilyen típusú városi koncentrációban/agglomerációban való élet két előnyét és két hátrányát;
- városi koncentráció két zónáját/tengelyét;
- a térképen a **2, 3, 8 és 10-es** számokkal jelölt városok nevét.

16 pont